

TÜRKÇE TESTİ

- * Bu testte toplam 12 soru vardır.
- * Cevaplarınızı optik formun Türkçe kısmına işaretleyiniz.
- * Bu test için önerilen süre 18 dakikadır.

Poyraz hemen evden çıktı. Hızlı olmalıydı. En sevdiği çizgi film başlamıştı. "Bari sonuna yetişeyim." diye mırıldandı. Koşa koşa Mıstıkların evinin önüne geldi. Mıstık, bahçede top sektiriyordu. En büyük hayali bir stadyumda futbol maçı yapmaktı. İşte bu hayalini gerçekleştirmek için antrenman yapıyordu. Ter içinde kalmıştı. Arkadaşının geldiğinin bile farkında değildi. Mıstık Poyraz'ı görünce gülümsedi.

(1, 2 ve 3. soruları yukarıdaki metne göre cevaplayınız.)



4. Yukarıdaki görseli ifade eden kelimenin ünsüz harfleri hangi seçenekte doğru verilmiştir?

- A) k - l - b - k
- B) k - b - k - m
- C) k - l - l - k

1. Poyraz neden hızlı olmak istiyordu?

- A) Mıstık'a yetişmek için
- B) Futbol oynamak için
- C) En sevdiği çizgi film başladığı için

5. Aşağıdaki cümlelerin hangisinde özel isim kullanılmamıştır?

- A) Pamuk benim tavşanımın adıdır.
- B) Yarın sabah doktor randevum var.
- C) Antalya 'dan kuzenim geldi.

2. Poyraz , Mıstıkların evinin önüne geldiğinde Mıstık ne yapıyordu?

- A) Top sektiriyordu.
- B) Çizgi film izliyordu.
- C) Maç izliyordu.

→ -nak

→ -mur

→ -muk

3. Mıstık 'ın en büyük hayali neydi ?

- A) Futbolcu olmak
- B) Bir stadyumda futbol maçı yapmak
- C) Antrenmanlara çıkmak

6. Yukarıdaki hecelerden hangisi "ya" hecesinden sonra geldiğinde anlamlı bir sözcük oluşmaz?

A)

B)

C)

7. “birey – fert” arasındaki anlam ilişkisi aşağıdaki kelimelerden hangisinde vardır?

- A) güzel- çirkin
- B) yaşlı –genç
- C) misafir - konuk

8. Aşağıdaki cümlelerin hangisinin sonuna farklı bir noktalama işareti gelir?

- A) Yazılıyı yarın mı olacağız
- B) Akşama tiyatroya gideceğiz
- C) Arkadaşım bugün okula gelmedi

9. “Türkçe” kelimesini oluşturan harflerin alfabetik sıralaması hangi seçenekte doğru verilmiştir?

- A) ç-e-r-k-t-ü
- B) ç-e-k-r-t-ü
- C) ç-e-t-r-k-ü

10.Aşağıdaki kelimelerden hangisi satır sonunda hecelerine ayrılmaz?

- A) çiçek
- B) fırın
- C) tren

Babam yoksul insanlara yardım etmeliyiz, dedi.

11.Yukarıdaki cümlede altı çizili kelimenin zıt anlamlısı aşağıdaki cümlelerin hangisinde vardır?

- A) Etrafımda zengin kimseler var.
- B) Fakir halkın mutluluğu için çalışıyoruz.
- C) Umutsuz insanlar mutlu olamazlar.

ci- ven- el -di

12.Yukarıda bir kelimenin heceleri karışık olarak verilmiştir. Bu kelimenin baştan ikinci hecesi hangisidir?

- A) di
- B) ven
- C) el

Türkçe testi bitti.

Hayat Bilgisi testine geçiniz

HAYAT BİLGİSİ TESTİ

- * Bu testte toplam 12 soru vardır.
- * Cevaplarınızı optik formun Hayat Bilgisi kısmına işaretleyiniz.
- * Bu test için önerilen süre 18 dakikadır.

1. Her bireyin ilgi alanı, yeteneği ve becerileri farklılık gösterir.

Aşağıdaki ifadelerden hangisi güçlü yönünü söyleyen bir öğrenciye aittir?

- A) Arkadaşlarımla etkili iletişim kurabiliyorum.
- B) Yüzmeyi henüz öğrenemedim.
- C) Kedimizi sevmekte zorlanıyorum.

3. **Aşağıdaki davranışlardan hangisi olumlu davranışlara örnek gösterilebilir?**

- A) Satrançta yenen arkadaşımı tebrik ederim.
- B) İyi not alan arkadaşımı tebrik etmem.
- C) Hatalı bir davranış yaparsam özür dilemem.

2.



Bir yerin üstten(kuş bakışı) görünüşünün kağıt üzerine küçültülerek kabataslak çizilmesine kroki denir. Evimizi, okulumuzu, sınıfımızı hatta sınıfımızdaki yerimizi tarif ederken krokiden faydalanırız. Yukarıdaki krokide Mert'in evi tarif edilmiştir.

Aşağıdaki seçeneklerin hangisinde Mert'in evi doğru olarak tarif edilmiştir?

- A) Mert'in evi marketin sağındadır.
- B) Mert'in evi kırmızı evin sağındadır.
- C) Mert'in evi parkın solundadır.

4. - Seninle tanıştığım için çok şanslıyım. Bana verdiğin sözü tutacağını çok iyi biliyordum.

Yukarıdaki ifade, arkadaşlık ilişkilerinde bulunması gereken hangi değeri vurgulamaktadır?

- A) Nezaket B) Yardımseverlik C) Güven

5. Okullarda eğitim-öğretim dışında çeşitli eğitsel, sosyal ve kültürel etkinlikler de yapılır.

Hangi öğrenci okulda yapılan sosyal ve kültürel bir etkinliğe katılmıştır?

- A) Salı günü müzik dersi yaptık.
- B) Sınıfımızda yere düşen çöpleri topladık.
- C) Okulumuz drama kulübü öğrencilerinin gösterisini izledik.

6. Meslekler insanların ihtiyaçları sonucu ortaya çıkmıştır. Toplum hayatında her mesleğin ayrı bir önemi vardır.

Aşağıdaki meslek gruplarından hangisinin hizmet verdiği alan farklıdır?

- A) Hakim
B) Savcı
C) Doktor

8. Okuldaki ihtiyaçlarımızı karşılayabilmek için çeşitli kaynakları kullanırız. Bu kaynaklar sınırsız değildir. Kullanırken dikkat etmeliyiz.

Aşağıdakilerden hangisi okul kaynaklarını verimli kullanmakla ilgili değildir?

- A) Lavabolarda açık bırakılan ışıkları kapatmak
B) Kalorifer yanarken camları açmak
C) Aydınlık havalarda sınıf ışıklarını kapatmak

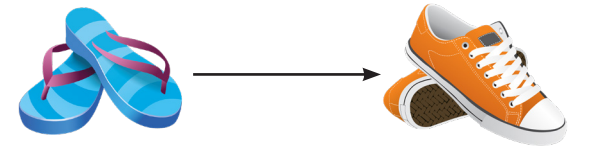
9. Aile büyüklerimiz ile bizim çocukluğumuz arasında farklılıklar vardır.

Aşağıdakilerden hangisi aile büyüklerimizin çocukluk dönemi ile bizim dönemimiz arasındaki değişime doğru bir örnek değildir?

A)



B)



C)



7. Okulda bir spor salonu yapılmasını isteyen Gülce ve arkadaşlarının hangisini yapması daha **doğru** olur?

- A) Bu isteklerini bir dilekçe yazarak okul idaresine iletmeleri.
B) Ailelerinin spor salonu yapılması için bir kurumla konuşmaları.
C) Okulun güvenlik görevlisine bu isteklerini söylemeleri.

10. Aşağıdaki öğrencilerden hangisi sorumluluğunu yerine getirmemektedir?

- A) Ata : Her sabah yatağımı annem toplar.
B) Betül : Eve zamanında gelirim.
C) Azra : Kirli çamaşırlarımı çamaşır sepetine koyarım.

12.* Komşularımızla iyi geçinmeliyiz.
* Komşularımıza yardım etmemeliyiz.
* Komşularımıza selam vermeliyiz.

Yukarıdaki ifadelerden kaç tanesi doğrudur?

- A) 3 B) 2 C) 1



11. Kirlenen kıyafetlerimizi kısa sürede ve tertemiz yıkamamızda bize yardımcı olur.

Yukarıda açıklaması verilen teknolojik alet aşağıdakilerden hangisidir?

- A) Ütü
B) Bulaşık Makinesi
C) Çamaşır Makinesi

Hayat Bilgisi testi bitti.

İngilizce testine geçiniz

İNGİLİZCE TESTİ

* Bu testte toplam 12 soru vardır.

* Cevaplarınızı optik formun İngilizce kısmına işaretleyiniz.

* Bu test için önerilen süre 18 dakikadır.

Group 1

Hello
Take care
Good morning

Group 2

See you
Goodbye
Good afternoon

1. Yukarıda yer alan kelime öbekleri bir özellik yönüyle gruplandırılmıştır. Gruplandırmanın doğru olması için hangi iki ifade yer değiştirmelidir?

- A) Good morning - See you
B) Take care - Good afternoon
C) Hello - Goodbye

Sally : Let's look at my family's photos.

Tom : Oh, nice! Who is this?

Sally : This is my She is 12.
She is a student. She likes blue.

3. Yukarıda verilen diyaloga göre boşluğa hangisi getirilemez?

- A) sister B) grandma C) daughter



2. Nice to meet you Paul. How are you?
3. Hello, My name is Sally. What's your name?
4. I'm great. Thank you.
6. Hi, I am Paul.
7. I'm fine, and you?
1. Goodbye, Sally. See you.
5. Bye, Paul. Take care.

2. Konuşmanın doğru sıralanışı aşağıdakilerden hangisidir?

- A) 3-6-2-7-4-1-5
B) 6-3-5-2-1-4-7
C) 3-6-2-4-7-5-1

- Your mother's son
- Your father's sister
- Your mother's brother
- Your uncle's son

4. Yukarıda verilen aile üyeleri hangi seçenekte doğru sırayla verilmiştir?

- A) aunt uncle grandpa nephew
B) uncle grandma aunt cousin
C) brother aunt uncle cousin

Hi, I'm Jack. My favorite activity is watching cartoons and my favorite cartoon character is Superman. He is very He always helps people and saves them. I love watching him!

5. Boşluğa uygun düşen seçeneği işaretleyiniz.

- A) old B) strong C) weak

Carol : It's very hot and I feel bored.

John :

6. Aşağıdaki seçeneklerden hangisi diyalogu doğru olarak tamamlar ?

- A) Let's swim in the pool.
B) Let's run.
C) Let's make a snowman together.



	AGE	WEIGHT
--	-----	--------

JACK	85	96 kg
------	----	-------

MATT	29	75 kg
------	----	-------

7. Yukarıdaki bilgilere göre aşağıdakilerden hangisi söylenemez?

- A) Jack is old and fat. He can't lift weight.
B) Matt is young and thin. He can play basketball.
C) Jack is young and energetic. He can run fast.

Dear Sally,
I feel very energetic and excited today, because it's my birthday. I will have a big birthday party in our garden. (1) All of the people I love will be around me today so I'm very happy.
(2) My favorite cake is chocolate cake.
(3) My party will start a few minutes later. I should get ready now. See you again.
Love, Amy.

8. Parçada anlam bütünlüğünü bozan cümle hangisidir?

- A) 3 B) 2 C) 1

she - this - my - is - sister - who - brother - is - ?

9. Yukarıda verilen kelimelerden anlamlı bir diyalog oluşturduğumuz zaman hangi kelime dışarıda kalır?

- A) is B) who C) brother

POTATOES

Potatoes grow on potato plants. When you look at a potato plant, you can only see **10)** leaves because potatoes grow on the part of the plant that is under the ground! There **11)** many different kinds of potatoes. Farmers **12)** more than sixteen weeks to grow big potatoes but only six weeks to grow small ones.

10, 11 ve 12. soruları yukarıda verilen parçaya göre cevaplayınız.

10. **A)** its **B)** hers **C)** his



11. **A)** is **B)** are **C)** was

12. **A)** need **B)** needs **C)** needing

İngilizce testi bitti.
Matematik testine geçiniz

MATEMATİK TESTİ

* Bu testte toplam 12 soru vardır.

* Cevaplarınızı optik formun Matematik kısmına işaretleyiniz.

* Bu test için önerilen süre 18 dakikadır.

1. Hasta olan Ahmet amcanın içmesi gereken on tane hapi vardır. Her ilaç içiminde 2 hap içmektedir. **Haplarını ikişer saat arayla içen Ahmet amca ilk hapını saat 08.00' de içerse son hapını saat kaçta içer?**

A) 14.00 B) 16.00 C) 18.00

4. Özge'nin yaşı bir basamaklı en büyük doğal sayıdan 11 fazladır. Annesinin yaşı Özge'nin yaşının 3 katından 3 eksiktir. **Buna göre, Özge ile annesinin 10 yıl sonraki yaşları toplamı kaç olur?**

A) 97 B) 80 C) 77

2. Ali tanesi 30 TL olan kalemlerden 6 tane alıp satıcıya 200 TL vermiştir. Aslı ise tanesi 25 TL olan kalemlerden 5 tane alıp satıcıya 150 TL vermiştir. Daha sonra iki arkadaş kalan paralarını birleştirip arkadaşları Furkan için hediye kitap almışlar ve geriye hiç paraları kalmamıştır. **Buna göre, aldıkları kitabın fiyatı kaç TL' dir?**

A) 45 B) 25 C) 20

5. Bir markette 51 kutu süt vardır. Bu sütlerin üçte birinden 13 fazlası satılmıştır. **Sütlerin kutusu 13 liradan alınıp 19 liradan satıldığına göre satılan sütlerden kaç lira kazanç elde edilmiştir?**

A) 150 B) 180 C) 200

3. Aysel 3 birlik 6 onluktan oluşan sayı ile 2 onluk ve 8 birlikten oluşan sayının farkını bulmuştur. Sonra bulduğu sayının 2 katının 10 eksikliğini hesaplamıştır. **Buna göre, Aysel'in en son bulduğu sayı kaçtır?**

A) 80 B) 70 C) 60

6. 20 kişinin katıldığı bir koşu yarışında Efe sondan 12. olmuştur. Efe, arkadaşı Demir'in bu yarış sonundaki sırasını yer alsaydı 5 kişiyi daha geçmiş olacaktı. **Buna göre, bu koşu yarışını Demir kaçınıcı olarak bitirmiştir?**

A) 2 B) 3 C) 4

7. Selen 2'den başlayarak üçer ritmik sayarken, Selin ise 32'den başlayarak ikişer geriye ritmik saymaktadır.Selen ve Selin aynı anda sayıları teker teker saymaktadırlar.
İlk olarak hangi sayıyı aynı anda söylerler?

A) 20 B) 22 C) 23

9. Limonata hazırlamak için çeyrek bardak limon suyuna 1 bardak tam dolu su eklenmektedir.
16 bardak su ile limonata yapmak için kaç bardak limon suyu eklenmelidir? (Bardaklar tam dolu olmak şartı ile)

A) 4 B) 12 C) 20



8. Anne baba ve çocuktan oluşan üç kişilik bir ailenin kiloları toplamı 190 kg'dır. Annenin kilosu 67 kg, babanın kilosu ise anneden 25 kg fazladır.
Buna göre çocuğun kilosu kaç kg'dır?

A) 29 B) 31 C) 40

- 10.

$$\begin{array}{r} 72 \\ + 15 \\ \hline \end{array}$$

Yukarıdaki toplama işlemi için aşağıdakilerden hangisi söylenemez?

- A) Sonucunda 8 onluk vardır.
B) Sonucunda 7 birlik vardır.
C) Sonucunu boncuklarla sayı abaküsünde göstermek istersek toplam 16 tane boncuk kullanılır.

11.

1.Sayı →	* 7
2.Sayı →	2 *

Yukarıda iki basamaklı sayılarda * aynı rakamları göstermektedir. *7 ve 2* iki basamaklı sayıların toplamları 82'dir.

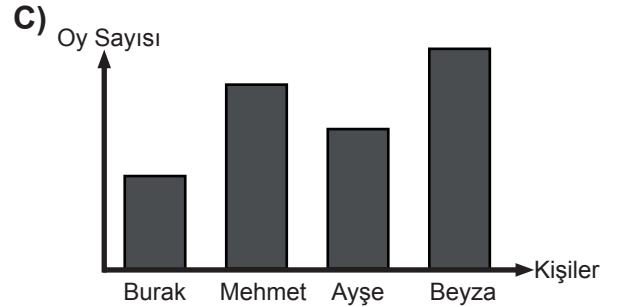
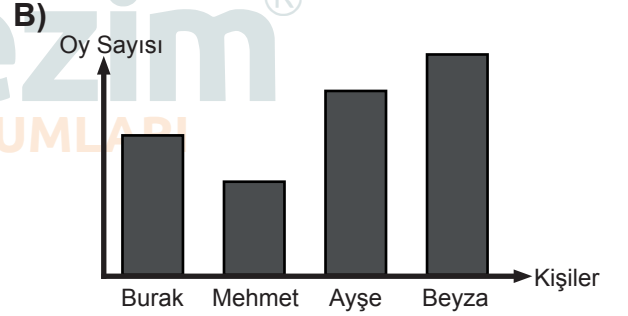
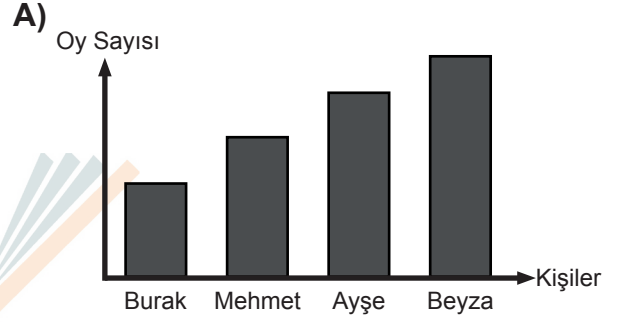
Buna göre 1 ve 2. sayıların onlar basamağına göre yuvarlanmış değerlerinin toplamı kaçtır?

- A) 70 B) 80 C) 90

12. Bir sınıfta sınıf başkanlığı seçimi yapılmıştır. Seçime ait tablo aşağıda verilmiştir.

Kişiler	Oy Sayısı
Ayşe	7
Mehmet	4
Beyza	12
Burak	3

Buna göre, tabloya ait grafik aşağıdakilerden hangisi olabilir?




Matematik testi bitti.

Fen Bilimleri testine geçiniz

FEN BİLİMLERİ TESTİ

- * Bu testte toplam 12 soru vardır.
- * Cevaplarınızı optik formun Fen Bilimleri kısmına işaretleyiniz.
- * Bu test için önerilen süre 18 dakikadır.

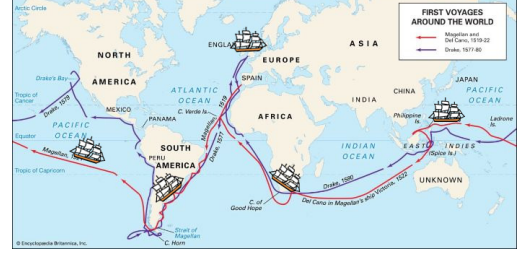
1.



Uras ders esnasında öğretmenine “Öğretmenim uzaydan bakıldığında Dünya’mızın mavi bir küre gibi görünmesinin temel sebebi nedir?” diye sormuştur. **Buna göre öğretmeni Uras’a verdiği cevap aşağıdakilerden hangisi olabilir?**

- A) Dünya yüzeyinin dörtte birinin su olması
- B) Dünya yüzeyinin atmosferle çevrili olması
- C) Dünya yüzeyinde sularla kaplı alanın daha fazla olması

3.



Macellan’ın gemileriyle hep batıya gittikten sonra yine aynı noktaya varması Dünya’nın hangi özelliğiyle ilgilidir?

- A) Dünya’nın geniş olması
- B) Dünya’nın yuvarlak olması
- C) Dünya’nın küp olması

2.



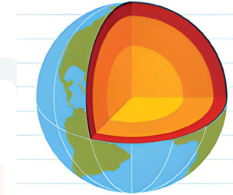
Zeynep öğretmen ders esnasında öğrencilerine “Dünya’mızın şekli nasıldır?” diye bir soru sormuştur. Bazı öğrencilerin söyledikleri cevaplar aşağıda verilmiştir.

- Burcu** : Dünya’mız alttan ve üstten basık yanlardan şişkindir
- Emir** : Dünya’mız yanlardan basık alttan ve üstten şişkindir.
- Hakan** : Dünyamız yanlardan basık alttan ve üstten tümsektir

Buna göre hangi öğrencinin yapmış olduğu açıklama doğrudur?

- A) Burcu
- B) Hakan
- C) Emir

4.



Dünya’mızın gözlemlenemeyen katmanlarının içten dışa doğru sıralanışı aşağıdakilerden hangisidir?

- A) İç çekirdek- manto-dış çekirdek
- B) manto- iç çekirdek-dış çekirdek
- C) iç çekirdek- dış çekirdek-manto

5. Dünya'mız farklı katmanlardan oluşur. dış katmanlarından biridir. **Noktalı yere aşağıdakilerden hangisi gelebilir?**
- A) manto
B) hava katmanı
C) çekirdek

7. **Duyu Organları** **Kavramlar**
- | | |
|----------|------------|
| a. Göz | 1. Sertlik |
| b. Deri | 2. Renk |
| c. Dil | 3. Acı |
| d. Kulak | 4. Gürültü |
| e. Burun | 5. Koku |

Yukarıdaki kavramları duyu organları ile eşleştirirsek aşağıdakilerden hangisi gibi olur?

- | | | |
|-----------|-----------|-----------|
| A) | B) | C) |
| a - 2 | a - 1 | a - 2 |
| b - 1 | b - 2 | b - 3 |
| c - 3 | c - 3 | c - 1 |
| d - 4 | d - 4 | d - 5 |
| e - 5 | e - 5 | e - 4 |

6. Tablodaki bilgiler doğru ise "D" yanlış ise "Y" yazıldığında yukarıdan aşağıya hangisi gibi olur?

BİLGİ	D / Y
Dünya yüzeyinin dörtte üçü sulardan oluşur	
Kara tabakası sadece topraktan meydana gelir	
Dünya'mızın şekli yuvarlaktır	
Hava katmanı gözlemlenebilen katmandır	

- A) D-D-D-Y
B) D-Y-D-D
C) Y-Y-D-D

8. Ailesiyle kek yapmakta olan Burak mikserin çalışma şeklini görünce şaşkınlığını gizleyememiştir. Nasıl böyle hareket ettiğini düşünmeye başlamıştır. **Kek yaparken mikserin hangi hareketinden yararlanır?**

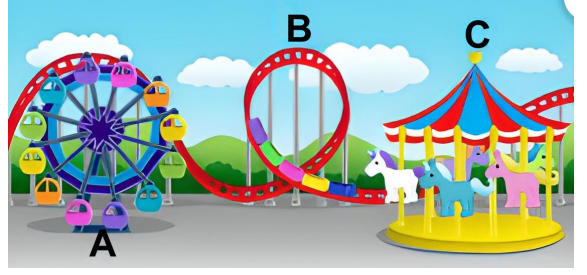
- A) Sallanma Hareketi
B) Dönme Hareketi
C) Yavaşlama Hareketi

9. Tablodaki bilgiler doğru ise "D" yanlış ise "Y" yazıldığında yukarıdan aşağıya hangisi gibi olur?

BİLGİ	D / Y
Frenine basılan otomobilin hareketi yavaşlamadır	
Düdük sesiyle koşmaya başlayan sporcunun hareketi hızlanmadır	
Çamaşır makinasının hareketi sallanmadır	
Ayçiçeğinin Güneş'e yönelme hareketi yönelmedir	

- A) D-D-D-D
B) D-Y-Y-D
C) D-D-Y-D

- 11.



Lunaparktaki oyuncakların yaptıkları hareketleri doğru bir şekilde anlatan ifade aşağıdakilerden hangisidir?

- A) A oyuncuğu dönme, B ve C oyuncuğu sallanma hareketi yapar
B) A ve C oyuncuğu dönme, B oyuncuğu hızlanma ve yavaşlama hareketi yapar
C) A oyuncuğu sallanma B ve C oyuncuğu dönme hareketi yapar



10. Bahar, uçağa yetişebilmek için bavuluyla beraber hızla yürüyordu. Aşağıdakilerden hangisi Bahar'ın bavula uyguladığı kuvvetle aynıdır?

- A) Pelin'in dolabı açması
B) Asya'nın telefonuna tuşuna basması
C) Seda'nın çekiçle ceviz kırması

12. Eylül, yumurtaya kuvvet uyguladığında yumurtanın kırıldığını gördü. Bu olaydan çıkarılabilecek sonuç hangisidir?

- A) Kuvvet yön değiştirir
B) Kuvvet cisimlerin şeklini değiştirir
C) Kuvvet cisimleri durdurur

Test Bitti

Cevaplarınız Kontrol Ediniz.